

LOGSE: Septiembre 2006
MATERIA: Geografía

OPCIÓN A

1ª PARTE

Defina, en el cuadernillo adjunto, seis de los siguientes términos o conceptos geográficos, utilizando como máximo una cara del cuadernillo:

Anticiclón, Monocultivo, Latitud, Escala geográfica, Delta, Curvas de nivel, meandro, Landa.

2ª PARTE

Tema: *El proceso de “terciarización” de la economía española*

Desarrolle de manera sintética, el tema propuesto (utilice, como máximo, ambas caras de un folio) atendiendo, al menos, a los siguientes puntos.

3ª PARTE

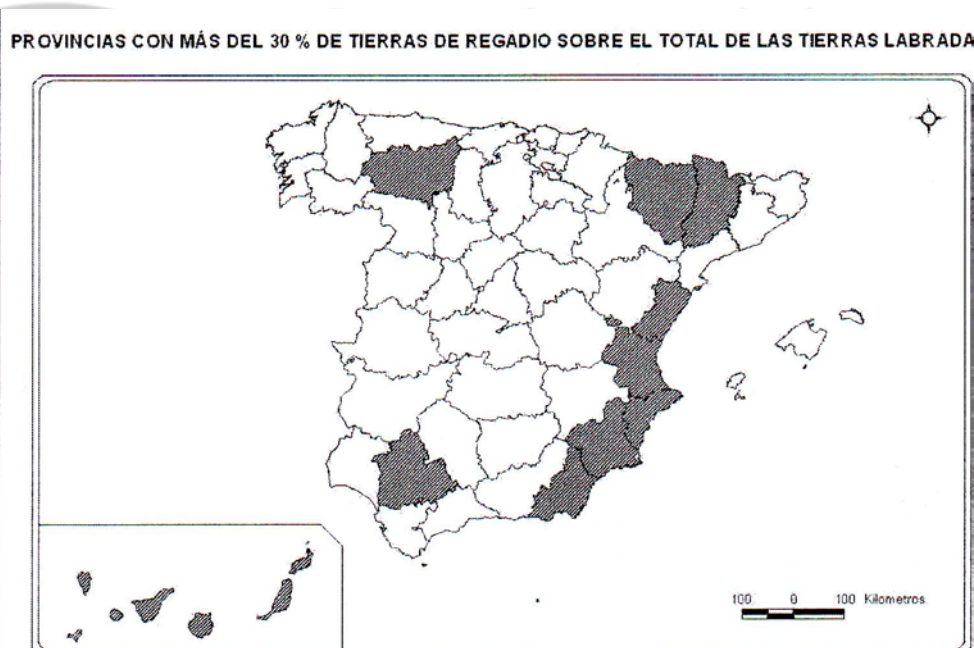
Comentario de la fotografía adjunta:

Realice un comentario de la imagen, atendiendo, al menos a los aspectos siguientes:

- Principales elementos del paisaje.
- Factores del medio físico que lo configuran.
- Transformaciones antrópicas (importancia de las infraestructuras)

4ª PARTE

A la vista del mapa adjunto: “Provincias con más del 30% de tierras de regadío sobre el total de las tierras labradas”, indique el nombre de las provincias “tramadas”, pertenecientes a dicha categoría, señale las razones que explican esta distribución y comente algunas consecuencias emanadas de este hecho.



OPCIÓN B

1ª PARTE

Defina, en el cuadernillo adjunto, seis de los siguientes términos o conceptos geográficos, utilizando como máximo una cara del cuadernillo:

Ciclón, Policultivo, Solsticio, Transición, demografía, CBD, Arrabal, Vegetación esclerófila, Falla.

2ª PARTE

Tema: “**Riesgos ambientales en España: la erosión y la desertificación**”

Desarrolle de manera sintética, el tema propuesto (utilice, como máximo, ambas caras de un folio), atendiendo, al menos, a los siguientes puntos:

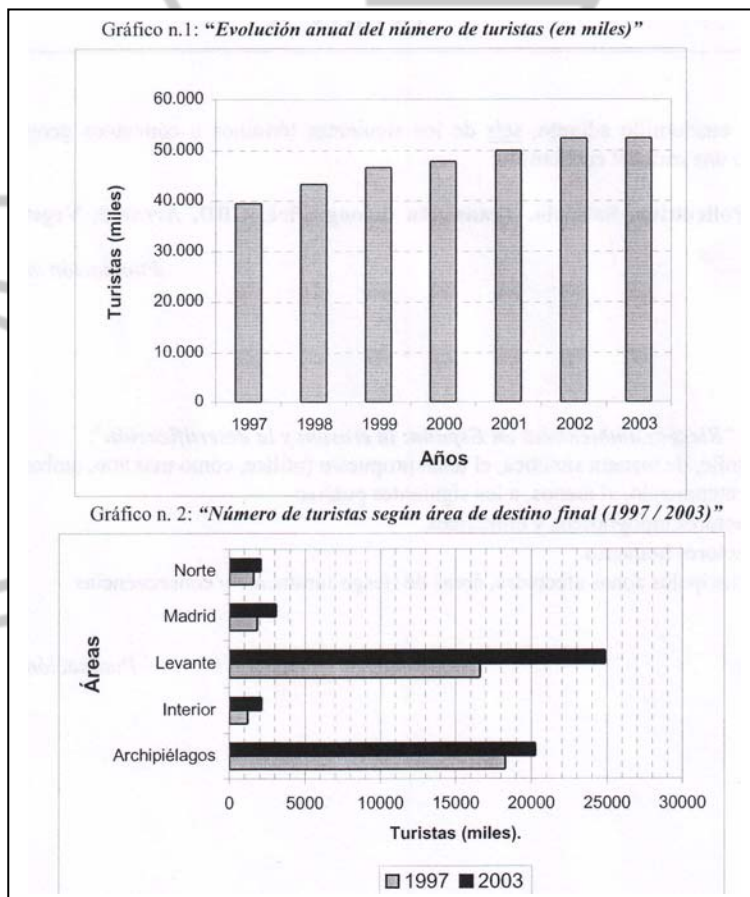
- Factores topográficos y climáticos.
- Factores humanos.
- Principales zonas afectadas, áreas de riesgo inminente y consecuencias.

3º PARTE

Comentario de los gráficos adjuntos:

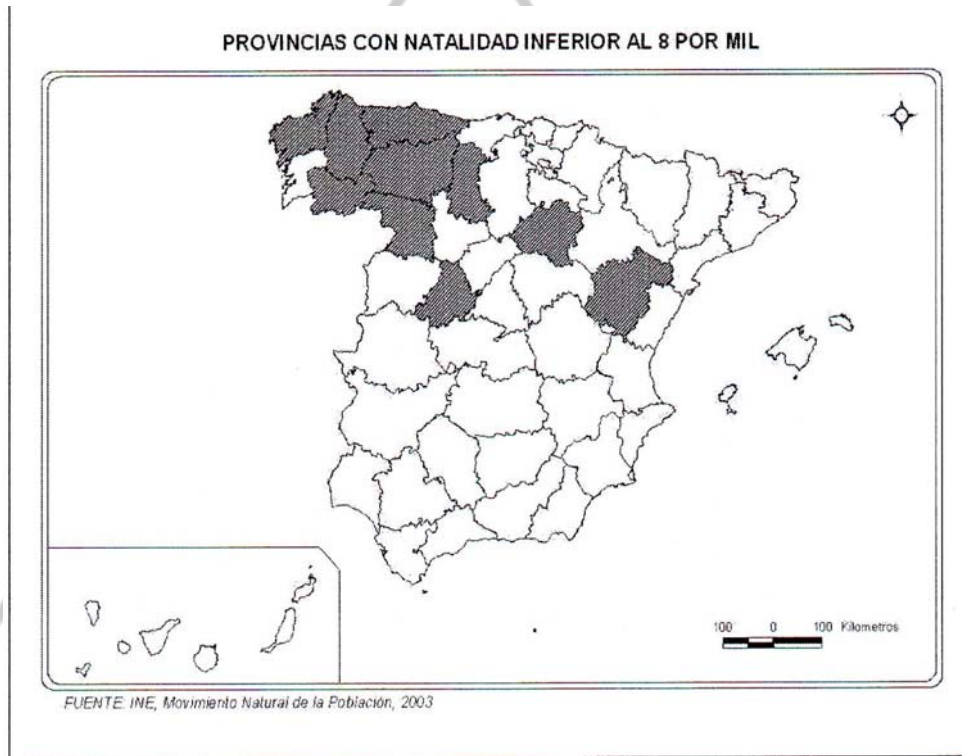
Realice un comentario de los gráficos adjuntos, atendiendo a los siguientes aspectos:


- Evolución y distribución del turismo en España.
- Análisis de las posibles causas, y de sus consecuencias.



4ª PARTE

A la vista del mapa adjunto, “Provincias con natalidad inferior al 8 por mil, en el año 2002”, indique el nombre de las provincias “tramadas”, pertenecientes a dicha categoría, cartografiadas en el mapa, señale las razones que explican esta distribución y comente algunas consecuencias emanadas de este hecho






CENTRO DE ESTUDIOS MIRASIERRA

www.selectividad.net/cem

**C/ Moralarzal 15-A
28034 Madrid
cem@selectividad.net**

**91 740 56 55
91 738 06 55**



CEM